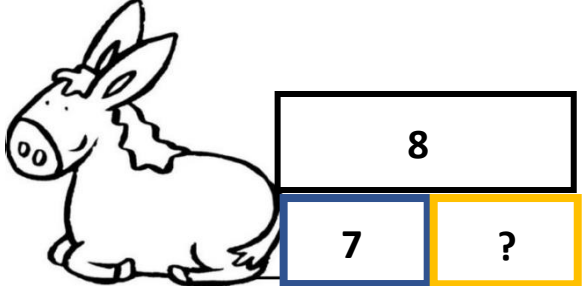
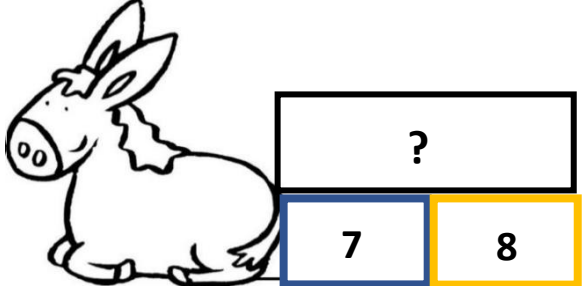
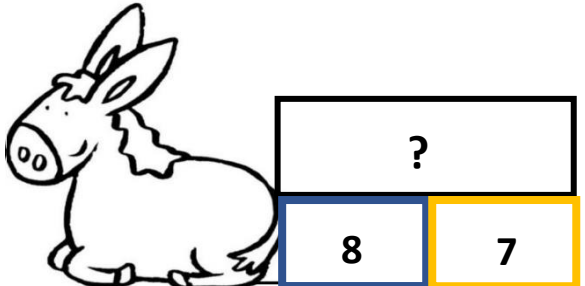
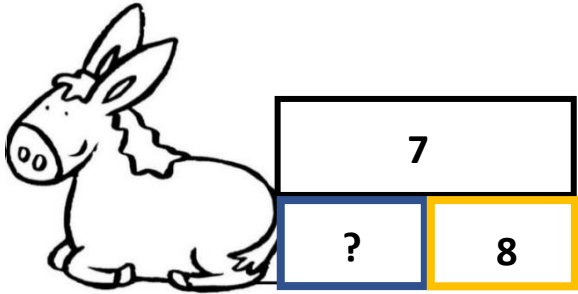


<p><b>Problème 1</b></p> <p>Un âne transporte des fruits. Il a 7 pommes dans un panier et 8 poires dans l'autre.</p> <p><b>Combien de fruits l'âne transporte-t-il ?</b></p>		<p><b>Problème 2</b></p> <p>Alex a 7 grosses billes et des petites billes. En tout il a 8 billes.</p> <p><b>Combien a-t-il de petites billes ?</b></p>
		<p><b>Problème 3</b></p> <p>Dans une corbeille il y a 8 bananes et 7 kiwis.</p> <p><b>Combien y a-t-il de fruits dans toute la corbeille ?</b></p>

Textes de problèmes à découper et à associer à un schéma dans le tableau

## CP-ACP12- fiche élèves\* : problèmes, schémas et réponses à compléter

TEXTE du problème	SCHEMA du problème	NOMBRE REPONSE au problème	JUSTIFICATION de la réponse par un calcul
		? = ...	.....
		? = ...	.....
		? = ...	.....

		? = .....	.....
--	--	-----------	-------